


MAHARSHI DAYANAND UNIVERSITY ROHTAK  
CLERK-CUM-JUNIOR DATA ENTRY OPERATOR WRITTEN TEST- 2012  
(EVENING SHIFT)  
Answer-Key to Question Booklet Set - Z

CODE : D

1 - 4	26 - 3	51 - 1	76 - 3
2 - 1	27 - 4	52 - 2	77 - 1
3 - 2	28 - 1	53 - 3	78 - 4
4 - 3	29 - 3	54 - 4	79 - 3
5 - 4	30 - 2	55 - 2	80 - 2
6 - 4	31 - 2	56 - 1	81 - 1
7 - 4	32 - 3	57 - 1	82 - 2
8 - 4	33 - 4	58 - 2	83 - 3
9 - 2	34 - 2	59 - 4	84 - 4
10 - 4	35 - 2	60 - 1	85 - 1
11 - 2	36 - 3	61 - 1	86 - 3
12 - 3	37 - 3	62 - 2	87 - 3
13 - 3	38 - 2	63 - 4	88 - 2
14 - 1	39 - 4	64 - 2	89 - 3
15 - 4	40 - 2	65 - 2	90 - 3
16 - 2	41 - 1	66 - 3	91 - 3
17 - 3	42 - 4	67 - 2	92 - 3
18 - 2	43 - 1	68 - 3	93 - 3
19 - 4	44 - 1	69 - 2	94 - 4
20 - 2	45 - 3	70 - 2	95 - 4
21 - 4	46 - 3	71 - 1	96 - 4
22 - 2	47 - 2	72 - 2	97 - 3
23 - 2	48 - 1	73 - 1	98 - 1
24 - 4	49 - 1	74 - 2	99 - 3
25 - 4	50 - 2	75 - 3	100 - 3

  
19/9/12  
Controller of Examinations  
M.D.U. Rohtak-124001

Total Printed Pages : 29 ]

(NOT TO BE OPENED BEFORE TIME OR TILL ASKED TO DO SO)

CJDEOT – 2012

SET – Z

D

Sr. No. 74740

Time : 90 Minutes ]

Total Questions : 100

[ Max. Marks : 100

Candidate's Name \_\_\_\_\_ Date of Birth \_\_\_\_\_

Father's Name \_\_\_\_\_ Mother's Name \_\_\_\_\_

Roll No. (in figures) \_\_\_\_\_ (in words) \_\_\_\_\_

Date of Exam. \_\_\_\_\_

(Signature of the Candidate)

(Signature of the Invigilator)

**Candidates MUST read the following instructions carefully before starting the question paper.**

प्रश्न-पत्र हल करने से पूर्व, अभ्यर्थीगण निम्नलिखित अनुदेशों को ध्यानपूर्वक पढ़ लें।

1. **All questions are compulsory. All questions carry equal mark.**

सभी प्रश्न अनिवार्य हैं। सभी प्रश्नों के अंक समान हैं।

2. **Before answering the questions, the candidates should ensure that they have been supplied complete question booklets. Complaints, if any, regarding misprinting etc. will not be entertained 15 minutes after the start of test.**

प्रश्न-पत्र हल करने से पूर्व, अभ्यर्थीगण यह सुनिश्चित कर लें, कि उन्हें पूरी प्रश्न-पत्रिका मिली है तथा उसमें छपाई संबंधी आदि कोई त्रुटि नहीं है। परीक्षा शुरू होने के 15 मिनट बाद इस संदर्भ में कोई शिकायत नहीं सुनी जाएगी।

3. **In case there is any discrepancy in any question(s) in the Question Booklet, the same may be brought to the notice of the Controller of Examinations in writing within two hours after the test is over. No such complaint(s) will be entertained thereafter.**

यदि प्रश्न-पत्र में किसी प्रश्न से सम्बन्धित कोई त्रुटि हो तो उस बारे में लिखित सूचना/शिकायत परीक्षा समाप्त होने के दो घण्टे के अन्दर-अन्दर, परीक्षा नियंत्रक की सूचना में लाई जाए। इसके उपरान्त ऐसी किसी भी सूचना/शिकायत पर कार्यवाही नहीं होगी।

4. **The candidates must return the complete question booklet and the OMR Answer-Sheet to the Invigilator concerned before leaving the Examination Hall, failing which a case of use of unfair-means/misbehaviour will be registered against him/her, in addition to lodging of an FIR with the police. Further the answer-sheet of such a candidate will not be evaluated.**

परीक्षा हॉल छोड़ने से पूर्व सभी अभ्यर्थीगण अपनी पूरी प्रश्न-पत्रिका व ओ० एम० आर० उत्तर-पत्र सम्बन्धित निरीक्षक को देकर ही जाएँ अन्यथा उनके विरुद्ध अनफेयर मीन्स/दुर्व्यवहार का केस बनाया जाएगा और साथ ही उनके विरुद्ध पुलिस में एफ० आई० आर० भी लिखवाई जाएगी। ऐसे केस में उस अभ्यर्थी के उत्तर-पत्र की जाँच भी नहीं करवायी जाएगी।

5. **The candidates must not do any rough work or writing in the OMR Answer-Sheet. Rough work, if any, may be done in the question booklet itself.**

अभ्यर्थीगण ओ० एम० आर० उत्तर-पत्र पर कोई रफ कार्य न करें। केवल प्रश्न-पत्रिका में ही रफ कार्य करें।

6. **There will be negative marking. For every wrong answer ¼ mark will be deducted. In case you are not sure of answer or do not want to attempt any question, leave the space blank under the concerned Question No. in the OMR Answer-Sheet. Cutting, erasing, overwriting and more than one answer in the OMR Answer-Sheet will be treated as wrong answer.**

नकारात्मक अंकन होगा। प्रत्येक गलत उत्तर के लिए ¼ (चौथाई) अंक कम कर दिया जाएगा। यदि आप सही उत्तर के बारे में आश्वस्त नहीं हैं या किसी प्रश्न का उत्तर नहीं देना चाहते तो उत्तर-पत्र के सम्बन्धित खाने को खाली छोड़ दें। ओ० एम० आर० उत्तर-पत्र पर काट-पीट, मिटाना और एक से अधिक उत्तर गलत माना जाएगा।

7. **Use only blue or black ball point pen in the OMR Answer-Sheet.**

ओ० एम० आर० उत्तर-पत्र पर केवल नीले या काले बॉल पॉइंट पेन का ही प्रयोग करें।

CJDEOT-2012/Set - Z/(D)

Confidential P. A. to  
Controller of Examinations  
M.D.U. Rohtak-124001

19/9/12

1. Which of the following is *not* an example of a value ?

- (1) 350 (2) May 10, 2012  
 (3) 57% (4) Serial Number 50771

निम्न में से कौन-सा value का उदाहरण *नहीं* है ?

- (1) 350 (2) May 10, 2012  
 (3) 57% (4) Serial Number 50771

2. Which of the following formulas will Excel *not* be able to calculate ?

- (1) = SUM (Sales) – A3  
 (2) = SUM (A1 : A5) \* 0.5  
 (3) = SUM (A1 : A5)/(10 – 10)  
 (4) = SUM (A1 : A5) – 10

निम्न में से Excel कौन-सा फार्मूला calculate *नहीं* कर पायेगा ?

- (1) = SUM (Sales) – A3  
 (2) = SUM (A1 : A5) \* 0.5  
 (3) = SUM (A1 : A5)/(10 – 10)  
 (4) = SUM (A1 : A5) – 10

3. Which of the following is an absolute cell reference ?

- (1) !A!1 (2) \$A\$1  
 (3) #a#1 (4) A1

निम्न में से कौन-सा *absolute cell reference* है ?

- (1) !A!1 (2) \$A\$1  
 (3) #a#1 (4) A1

4. To view a cell comment :

- (1) Click the edit comment command on the insert menu
- (2) Click the display comment command on the window menu
- (3) Position the mouse pointer over the cell
- (4) Click the comment command on the view menu

एक cell की टिप्पणियों को देखने के लिये निम्न में से क्या करते हैं ?

- (1) Insert मेनू पर जाकर edit comment को क्लिक करते हैं
- (2) Window मेनू पर जाकर display comment को क्लिक करते हैं
- (3) Mouse प्वाइंटर को cell पर रखते हैं
- (4) View मेनू पर comment कमांड को क्लिक करते हैं

5. Concatenation of text can be done using :

- |                      |                       |
|----------------------|-----------------------|
| (1) Apostrophe ( ' ) | (2) Exclamation ( ! ) |
| (3) Hash ( # )       | (4) Ampersand ( & )   |

Text को निम्न में से किस द्वारा concatenate किया जा सकता है ?

- |                      |                       |
|----------------------|-----------------------|
| (1) Apostrophe ( ' ) | (2) Exclamation ( ! ) |
| (3) Hash ( # )       | (4) Ampersand ( & )   |

6. What is the short cut key to open the Open dialog box ?

- |               |                 |
|---------------|-----------------|
| (1) F12       | (2) Shift + F12 |
| (3) Alt + F12 | (4) Ctrl + F12  |

Open डायलॉग बॉक्स खोलने के लिये short cut चाबी कौन-सी है ?

- |               |                 |
|---------------|-----------------|
| (1) F12       | (2) Shift + F12 |
| (3) Alt + F12 | (4) Ctrl + F12  |

7. What are inserted as cross-reference in Word ?

- |                  |                 |
|------------------|-----------------|
| (1) Placeholders | (2) Bookmarks   |
| (3) Objects      | (4) Word Fields |

Word में कौन-से cross-reference insert किये जाते हैं ?

- |                  |                 |
|------------------|-----------------|
| (1) Placeholders | (2) Bookmarks   |
| (3) Objects      | (4) Word Fields |

8. Which would you choose to save a document with a new name ?

- (1) Press Ctrl + S
- (2) Click File, Save
- (3) Click Tools, Options, Save
- (4) Click File, Save As

निम्न में से document को नये नाम से save करने के लिये कौन-सा प्रयोग में लाते हैं ?

- (1) Ctrl + S को दबाना
- (2) क्लिक File, Save
- (3) क्लिक Tools, Options, Save
- (4) क्लिक File, Save As

9. Which of the following do you use to change margins ?

- (1) Formatting toolbar
- (2) Page Setup dialog box
- (3) Standard toolbar
- (4) Paragraph dialog box

निम्नलिखित में से margin बदलने के लिये क्या प्रयोग करते हैं ?

- (1) Formatting टूलबार
- (2) page setup डायलॉग बॉक्स
- (3) Standard टूलबार
- (4) Paragraph डायलॉग बॉक्स



10. We can replace a font on all slides with another font using the option ?

- (1) Edit → Fonts
- (2) Tools → Fonts
- (3) Tools → Replace Fonts
- (4) Format → Replace Fonts

निम्न में से कौन-से विकल्प द्वारा सभी स्लाइडों में existing font को दूसरे font से replace किया जा सकता है ?

- (1) Edit → Fonts
- (2) Tools → Fonts
- (3) Tools → Replace Fonts
- (4) Format → Replace Fonts

11. What does .com domain represent ?

- (1) Education domain
- (2) Commercial domain
- (3) Network
- (4) None of the above

.com डोमेन (Domain) क्या दर्शाता है ?

- (1) एजुकेशन डोमेन
- (2) कमर्शियल डोमेन
- (3) नेटवर्क
- (4) उपरोक्त में से कुछ भी नहीं

12. Two kinds of main memory are :

- (1) Primary, Secondary
- (2) Random, Sequential
- (3) RAM, ROM
- (4) All of the above

मुख्य स्मृति (main memory) के दो प्रकार क्या हैं ?

- (1) Primary, Secondary
- (2) Random, Sequential
- (3) RAM, ROM
- (4) उपरोक्त सभी

13. Firewall in a Computer Network is :

- (1) the physical boundary of network
- (2) an operating system of computer network
- (3) A system devised to prevent unauthorized access
- (4) A web browsing software

कम्प्यूटर नेटवर्क में Firewall क्या होता है ?

- (1) नेटवर्क की भौतिक सीमा
- (2) नेटवर्क का ऑपरेटिंग (operating) सिस्टम
- (3) प्रणाली (system) को अनाधिकृत पहुँच से बचाने के लिए
- (4) Web Browser सॉफ्टवेयर

14. Computer size was very large in :

- |                      |                       |
|----------------------|-----------------------|
| (1) First Generation | (2) Second Generation |
| (3) Third Generation | (4) Fourth Generation |

कम्प्यूटर का आकार बहुत बड़ा था :

- |                     |                     |
|---------------------|---------------------|
| (1) पहली पीढ़ी में  | (2) दूसरी पीढ़ी में |
| (3) तीसरी पीढ़ी में | (4) चौथी पीढ़ी में  |

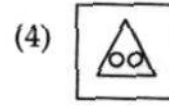
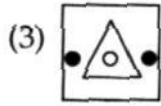
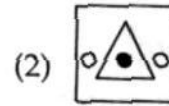
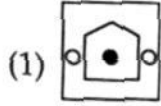
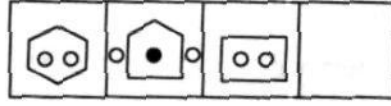
15. Digital systems are systems which :

- (1) deal with digital information in the external world
- (2) uses analog signals
- (3) manipulate information
- (4) handle information in digital form internally

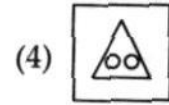
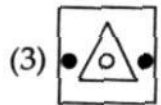
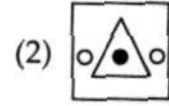
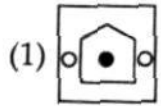
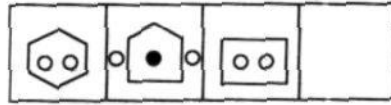
Digital सिस्टम

- (1) बाहरी दुनिया में डिजिटल information deal करते हैं
- (2) analog signals प्रयोग करते हैं
- (3) information का हेरफेर (manipulate) करते हैं
- (4) डिजिटल information को आंतरिक (internally) handle करते हैं

16. Which alternative does fill up the blank ?



कौन-सा विकल्प रिक्त स्थान को भरता है ?



17. Ravi starts from a point on his bicycle to ride 8 km to North then takes a left turn to move 11 km. There after he rides 24 km Southward and finally turn to left to stop after a ride of 11 km. How far and in which direction is he now ?

(1) 32 Km, West

(2) 2 Km, South

(3) 16 Km, South

(4) On starting point

रवि एक स्थान से अपनी साइकिल पर उत्तर की ओर 8 किमी चल कर बाएँ मुड़ जाता है और 11 किमी चलता है। वहाँ से वह 24 किमी दक्षिण की ओर चल कर बाएँ मुड़ कर 11 किमी पर रुक जाता है। वह अब दिशा में कितनी दूर है ?

(1) 32 किमी, पश्चिम

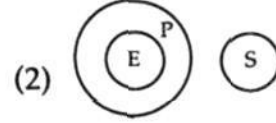
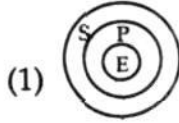
(2) 2 किमी, दक्षिण

(3) 16 किमी, दक्षिण

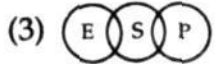
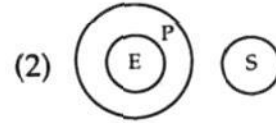
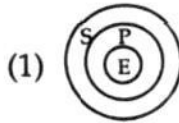
(4) प्रारम्भिक स्थान पर



18. Which diagram represents Sun(S), Planets(P), Earth (E) ?



सूर्य (S), ग्रहों (P), पृथ्वी (E) को कौन-सा चित्र निरूपित करता है ?



19. Choose the odd one :

(1) Chameleon

(2) Crocodile

(3) Alligator

(4) Locust

बेमेल चुनें :

(1) गिरगिट

(2) मगर

(3) गोह

(4) टिड्डी

20. What is equal to  $\sqrt{384.16} = ?$

(1) 196

(2) 19.6

(3) 61.98

(4) 6.19

$\sqrt{384.16} = ?$  के बराबर क्या होगा

(1) 196

(2) 19.6

(3) 61.98

(4) 6.19

21. Who was the first woman to be the Union Minister in India ?

- (1) Sarojini Naidu (2) Sucheta Kriplani  
(3) Vijai Lakshmi Pandit (4) Rajkumari Amrit Kaur

भारत में केन्द्रीय मन्त्री बनने वाली प्रथम महिला कौन थी ?

- (1) सरोजिनी नायडू (2) सुचेता कृपलानी  
(3) विजय लक्ष्मी पंडित (4) राजकुमारी अमृत कौर

22. When do we observe National Youth Day ?

- (1) May, 8 (2) January, 12  
(3) June, 5 (4) August, 29

हम राष्ट्रीय युवा दिवस कब मनाते हैं ?

- (1) 8 मई (2) 12 जनवरी  
(3) 5 जून (4) 29 अगस्त

23. Eritrea is situated in .....

- (1) Europe (2) Africa  
(3) Asia (4) South America

एरिट्रीया ..... में स्थित है।

- (1) यूरोप (2) अफ्रीका  
(3) एशिया (4) दक्षिण अमेरिका

24. What is the Life Expectancy (in years) as per Census India 2011 provisional figures ?

- (1) 70 (2) 72 (3) 65 (4) 67

भारत में जनगणना 2011 की अनंतिम आंकड़ों के अनुसार जीवन प्रत्याशा (वर्ष) क्या है ?

- (1) 70 (2) 72 (3) 65 (4) 67

25. Who have been recently nominated to Rajya Sabha ?

- (1) Sachin Tendulkar
- (2) Rekha and Sachin Tendulkar
- (3) Anu Aga and Sachin Tendulkar
- (4) Rekha, Anu Aga and Sachin Tendulkar

हाल ही में राज्य सभा में किन्हें मनोनीत किया गया है ?

- (1) सचिन तेन्दुलकर
- (2) रेखा एवं सचिन तेन्दुलकर
- (3) अनु आगा एवं सचिन तेन्दुलकर
- (4) रेखा, अनु आगा एवं सचिन तेन्दुलकर

26. निम्नलिखित शब्दों में से शुद्ध शब्द चुनिए :

- (1) अतिथी
- (2) अन्तर्ध्यान
- (3) आलौकिक
- (4) अभिशोक

27. निम्नलिखित शब्दों में से कौन-सा शब्द 'ईमानदारी' शब्द का पर्यायवाची नहीं है ?

- (1) निष्कपटता
- (2) निश्छलता
- (3) सदाशयता
- (4) उत्पात

28. निम्नलिखित शब्दों में से 'आहार' शब्द के विपरीतार्थक शब्द का चयन कीजिए :

- (1) निराहार
- (2) अनाहार
- (3) शाकाहारी
- (4) दुर्व्यवहार

29. नीचे दिए गए वाक्य में रिक्त स्थान भरने के लिए सही विकल्प चुनिए :

हमारा देश धीरे-धीरे आत्मनिर्भरता के ..... की ओर बढ़ रहा है।

- (1) उद्देश्य
- (2) मकसद
- (3) लक्ष्य
- (4) गन्तव्य

30. नीचे दिए गए वाक्य में रिक्त स्थान भरने के लिए सही विकल्प चुनिए :

सदन के नेता ने जोरदार शब्दों में विपक्ष के तर्कों का ..... किया।

- (1) समर्थन (2) खण्डन  
(3) मन्थन (4) विरोध

31. Select the correct form of the verb from the options to fill in the blank in the following sentence :

I will call you on phone when he ..... back.

- (1) will come (2) comes (3) is coming (4) return

32. Select the correct option to fit in the blanks in the following para :

Letter writing is a bit difficult job. Famous letter-writers were very ..... They wrote ..... letters which are read by people with .....

- (1) casual, excellent, case (2) careless, difficult, attention  
(3) serious, excellent, attention (4) serious, excellent, carelessness

33. Select the correct option to fill in the blank in the following sentence :

Why ..... him yesterday ?

- (1) you didn't meet (2) you haven't meet  
(3) haven't you met (4) didn't you meet

34. Read the following passage and select the statement best supported by it :

Things in metropolitan India are gradually changing. Women are being recognised by employers, particularly in corporate sector as temperamentally more suitable in this age. Visit any advertising agency or ad-film maker's office, the male-female ratio leans heavily towards the female population.

Statements :

- (1) Women are heading most of the ad-agencies
- (2) Women are believed to be more suitable to handle infotech jobs/offices
- (3) Only elite women join the corporate sector
- (4) Male-female in the society is gradually changing

35. Read the following passage and select the correct answer :

The first official results of Mexico's Presidential election, declared on 1st July 2012 showed Lopez Obrador with 31 percent of vote against 38 percent for Pena Nieto of Institutional Revolutionary Party. When Obrador lost the 2006 presidential election, he claimed fraud and organised mass protests. The president-elect pledged to focus on energy, labour and tax reforms, and hoped to strike deals with his opponents to take the country forward.

- (1) Lopez Obrador has been elected President of Mexico
- (2) Pena Nieto has been voted to power in Mexico
- (3) Pena Nieto will organise protests to expose fraud in the election
- (4) Obrador will introduce energy, labour and tax reforms

36. Slide sorter of Power Point is available on ..... menu.

- (1) Insert                      (2) File                      (3) View                      (4) Edit

Power Point का Slide sorter फीचर ..... मेनू पर उपलब्ध होता है।

- (1) Insert                      (2) File                      (3) View                      (4) Edit

37. The spelling dialog box can be involved by choosing spelling from ..... menu.

- (1) Insert                      (2) File                      (3) Tools                      (4) View

उत्तर (b)

37. Spelling डायलॉग बॉक्स को ..... मेनू से Spelling का चुनाव करके शामिल किया जा सकता है।

उत्तर (b)

- (1) Insert                      (2) File                      (3) Tools                      (4) View

38. All worksheet formula :

- (1) Manipulate values  
(2) Return a formula result  
(3) Manipulate labels  
(4) Use the addition operator

सभी वर्कशीट फार्मूले निम्न में से क्या करते हैं ?

उत्तर (a)

उत्तर (b)

उत्तर (c)

उत्तर (d)

उत्तर (a)

- (1) Values को manipulate करते हैं  
(2) फार्मूले का नतीजा देते हैं  
(3) लेबलों को manipulate करते हैं  
(4) addition ऑपरेटर का प्रयोग करते हैं

39. Documentation should include :

- (1) Destination and users of the output data  
(2) Source of input data  
(3) Information on the purpose of the workbook  
(4) All of the above

Documentation में निम्न में से क्या शामिल है ?

- (1) गंतव्य एवं आउटपुट डाटा के यूजर  
(2) सोर्स ऑफ इनपुट डाटा  
(3) वर्कबुक के मकसद से सम्बन्धित सूचना  
(4) उपरोक्त सभी



40. Getting data from a cell located in a different sheet is called .....

- |               |                 |
|---------------|-----------------|
| (1) Accessing | (2) Referencing |
| (3) Updating  | (4) Functioning |

एक अलग sheet में स्थित cell से डाटा लेने को ..... कहते हैं।

- |               |                 |
|---------------|-----------------|
| (1) Accessing | (2) Referencing |
| (3) Updating  | (4) Functioning |

41. Which of the following command is *not* available in Tools menu ?

- |                    |                  |
|--------------------|------------------|
| (1) Auto text      | (2) Auto correct |
| (3) Auto summarize | (4) Macro        |

Tools मेनू पर निम्न में से कौन-सी command मौजूद *नहीं* होती ?

- |                    |                  |
|--------------------|------------------|
| (1) Auto text      | (2) Auto correct |
| (3) Auto summarize | (4) Macro        |

42. Which of the following can *not* be used to create parallel style column ?

- |                    |                        |
|--------------------|------------------------|
| (1) Format Tabs    | (2) Table Insert Table |
| (3) Insert Textbox | (4) Format Columns     |

निम्न में से कौन-सा समानान्तर स्टाइल के Column बनाने में प्रयोग *नहीं* लाया जा सकता ?

- |                    |                        |
|--------------------|------------------------|
| (1) Format Tabs    | (2) Table Insert Table |
| (3) Insert Textbox | (4) Format Columns     |

43. What is the shortcut key for "subscript" the selected text ?

- (1) Ctrl + = (2) Ctrl + -  
 (3) Ctrl + Shift + = (4) Ctrl + Shift + -

चयनित टेक्स्ट को "subscript" करने के लिये shortcut चाभी कौन-सी होती है ?

- (1) Ctrl + = (2) Ctrl + -  
 (3) Ctrl + Shift + = (4) Ctrl + Shift + -

44. What is the shortcut key to Update Formula in a table ?

- (1) F9 (2) Alt + F9  
 (3) Ctrl + F9 (4) Shift + F9

टेबल में फॉर्मूला अपडेट करने के लिये shortcut चाभी कौन-सी होती है ?

- (1) F9 (2) Alt + F9  
 (3) Ctrl + F9 (4) Shift + F9

45. What is the shortcut key to "Undo" the last action in a document ?

- (1) Ctrl + X (2) Ctrl + Y  
 (3) Ctrl + Z (4) None of the above

दस्तावेज में आखिरी कार्य को "Undo" करने के लिये shortcut चाभी कौन-सी होती है ?

- (1) Ctrl + X (2) Ctrl + Y  
 (3) Ctrl + Z (4) उपरोक्त में से कोई नहीं

46. A high speed, high capacity transmission medium that can carry signal from multiple independent network carrier is :

- (1) Narrow band channel
- (2) Voice band channel
- (3) Broad band channel
- (4) None

एक उच्च गति, उच्च क्षमता का संचरण माध्यम जो विविध independent Network Carriers से संकेत (signal) ले जा सकता है :

- (1) Narrow band channel
- (2) Voice band channel
- (3) Broad band channel
- (4) उपरोक्त में से कोई नहीं

47. URL stands for :

- (1) Uniform Read Locator
- (2) Uniform Resource Locator
- (3) Unicode Research Location
- (4) United Research Locator

URL किसका संक्षिप्तीकरण है ?

- (1) Uniform Read Locator
- (2) Uniform Resource Locator
- (3) Unicode Research Location
- (4) United Research Locator

48. Machine code is a :

- (1) Low level language
- (2) High level language
- (3) Software language
- (4) Compiler

मशीन कोड ..... है।

- (1) Low level language
- (2) High level language
- (3) Software language
- (4) Compiler

49. What does OCR stands for ?

- (1) Optical Character Reader
- (2) Operational Character Reader
- (3) Optical Character Recognition
- (4) Only Character Reader

OCR किसका संक्षिप्तीकरण है ?

- (1) Optical Character Reader
- (2) Operational Character Reader
- (3) Optical Character Recognition
- (4) Only Character Reader

50. The octal equivalent of 111010 is :

- (1) 81                      (2) 72                      (3) 71                      (4) None of these

बाइनरी (Binary) नम्बर 111010 का octal equivalent क्या है ?

- (1) 81                      (2) 72                      (3) 71                      (4) उपरोक्त में कोई भी नहीं

51. सही अर्थ वाला विकल्प चुनिए :

अन्वेषण

- (1) शोध                      (2) अनुकरण  
(3) अनुमति                      (4) अन्यथा

52. निम्नलिखित शब्दों में से कौन-सा शब्द अशुद्ध है ?

- (1) नवनिहाल                      (2) खेतीहर  
(3) देवर्षि                      (4) धुरन्धर

53. निम्नलिखित शब्दों में से कौन-सा शब्द 'ढोंग' शब्द का पर्यायवाची नहीं है ?

- (1) आडम्बर                      (2) स्वाँग  
(3) विभीषिका                      (4) प्रपञ्च

54. निम्नलिखित शब्दों में से 'वरिष्ठ' शब्द के विपरीतार्थक शब्द का चयन कीजिए :

- (1) अनावृष्टि                      (2) अनिष्ट  
(3) अवरिष्ठ                      (4) कनिष्ठ

55. सही अर्थ वाला विकल्प चुनिए :

निष्ठुर -

- (1) दैत्य                      (2) कठोर  
(3) आरोपी                      (4) कपटी

56. नीचे दिए गए विकल्पों में से सही वाक्य छाँटिए :

- (1) रागिनी अपने आप चली गई।
- (2) रागिनी खुद से चली गई।
- (3) रागिनी अपने से ही चली गई।
- (4) रागिनी स्वयं से ही चली गई।

57. नीचे लिखे वाक्य को चार पदों में बाँटकर क्रमानुसार लिखा गया है। इनमें से एक पद, वाक्य के संदर्भ में, त्रुटियुक्त है। त्रुटियुक्त पद को छाँटिए :

हरि ने यह आग्रह कर लिया है कि वह शिक्षा समाप्त कर लेने के पश्चात् ही नौकरी के लिए आवेदन करेगा।

- (1) हरि ने यह आग्रह कर लिया है कि
- (2) वह शिक्षा समाप्त कर लेने के पश्चात् ही
- (3) नौकरी के लिए
- (4) आवेदन करेगा

58. निम्नलिखित गद्यांश को पढ़कर इसके नीचे दिए गए उत्तरों में से सही उत्तर छाँटिए :

ज़िन्दगी के असली मजे उनके लिए नहीं हैं जो फूलों की छाँह के नीचे खेलते व सोते हैं। फूलों की छाँह के नीचे अगर कोई मजा है, तो उसको वे लोग ही महसूस कर सकते हैं जो दूर रेगिस्तान से आ रहे हैं, जिनका कंठ सूखा है, ओठ फटे हुए हैं और सारा बदन पसीने से तर है।

उपर्युक्त गद्यांश में किस बात के महत्त्व को बताया है ?

- |             |           |
|-------------|-----------|
| (1) प्रकृति | (2) श्रम  |
| (3) जीवन    | (4) भाग्य |

59. सही अर्थ वाला विकल्प चुनिए :

परितोजना –

- |              |              |
|--------------|--------------|
| (1) उत्तेजना | (2) परियोजना |
| (3) संरक्षण  | (4) त्यागना  |

60. नीचे एक शब्द की वर्तनी के अनेक रूप प्रस्तुत हैं। इनमें से शुद्ध वर्तनी का चयन कीजिए :

- |             |           |
|-------------|-----------|
| (1) गृहिणी  | (2) गृहणी |
| (3) ग्रहिणी | (4) गृहणि |



61. To insert new slide in the Current Presentation we can choose :

- (1) Ctrl + M (2) Ctrl + N  
(3) Ctrl + O (4) Ctrl + F

Current प्रेजेंटेशन में एक नयी स्लाइड को डालने के लिये निम्न में से किसका प्रयोग कर सकते हैं ?

- (1) Ctrl + M (2) Ctrl + N  
(3) Ctrl + O (4) Ctrl + F

62. A File which contains readymade styles that can be used for a Presentation is called :

- (1) Auto Style (2) Template  
(3) Wizard (4) Pre-formatting

निम्न में से कौन-सी फाइल में readymade स्टाइल होते हैं जो प्रेजेंटेशन के लिये प्रयोग में आते हैं ?

- (1) Auto Style (2) Template  
(3) Wizard (4) Pre-formatting

63. Power Point presentation is a collection of .....

- (1) Slides and Handouts (2) Speaker's notes  
(3) Outlines (4) All of the above

Power Point प्रेजेंटेशन निम्न में से किनका संग्रह है ?

- (1) Slides and Handouts (2) Speaker's notes  
(3) Outlines (4) ऊपर वाले सभी

64. Which is *not* the one of view options provided by Power Point to look at and modify presentation ?

- (1) Slide Show (2) Format Slide  
(3) Slide Sorter (4) Normal

निम्न में से Power Point का प्रेजेंटेशन को देखने और बदलने के लिये कौन-सा view option नहीं है ?

- (1) Slide Show (2) Format Slide  
(3) Slide Sorter (4) Normal

65. How can you stop a slide show ?

- |                           |                          |
|---------------------------|--------------------------|
| (1) Press the right arrow | (2) Press Escape         |
| (3) Press the left arrow  | (4) Press the down arrow |

आप Slide Show को कैसे रोक सकते हैं ?

- |                           |                          |
|---------------------------|--------------------------|
| (1) दायें arrow को दबायें | (2) Escape दबायें        |
| (3) बायें arrow को दबायें | (4) Down arrow को दबायें |

66. Who is known as the father of computers ?

- |                      |                   |
|----------------------|-------------------|
| (1) Herman Hollerith | (2) Grace Hoppers |
| (3) Charles Babbage  | (4) Newton        |

..... को कम्प्यूटर का जन्मदाता जाना जाता है।

- |                      |                   |
|----------------------|-------------------|
| (1) Herman Hollerith | (2) Grace Hoppers |
| (3) Charles Babbage  | (4) Newton        |

67. The main advantage of magnetic core memory over semiconductor RAM is :

- (1) more compact and smaller
- (2) more economical
- (3) more compact & large
- (4) more volatile

मैग्नेटिक कोर मेमोरी का सेमीकंडक्टर RAM के ऊपर मुख्य लाभ है :

- (1) अधिक कॉम्पैक्ट और छोटा
- (2) अधिक किफायती
- (3) अधिक कॉम्पैक्ट और बड़ा
- (4) अधिक अस्थिर

68. Unsolicited commercial e-mail is commonly known as :

- |          |               |
|----------|---------------|
| (1) junk | (2) hoaxes    |
| (3) spam | (4) hypertext |

अवांछित (unsolicited) व्यावसायिक ई-मेल सामान्यतः जाना जाता है

- |           |                  |
|-----------|------------------|
| (1) जंक   | (2) होक्स        |
| (3) स्पाम | (4) हाइपरटेक्स्ट |

69. Which of the following refers to transfer of a file from your computer to a remote computer ?

- (1) FTP (2) Uploading  
(3) Downloading (4) Telnet

निम्नलिखित में से क्या, एक File को एक कम्प्यूटर से किसी दूरस्थ कम्प्यूटर पर ले जाने के संदर्भ में प्रयोग किया जाता है

- (1) FTP (2) Uploading  
(3) Downloading (4) Telnet

70. .... are used to connect two dissimilar LANS.

- (1) Bridges (2) Gateways  
(3) Router (4) All of the above

..... को दो विभिन्न LANS को जोड़ने के लिए प्रयोग किया जाता है

- (1) Bridges (2) Gateways  
(3) Router (4) उपरोक्त सभी

71. A person lent some money at 9% and the same amount at the rate of 10% for 2 years. He earns a simple interest of Rs. 760. Find the total amount invested :

- (1) Rs. 4,000 (2) Rs. 2,000  
(3) Rs. 1,900 (4) Rs. 3,800

एक व्यक्ति ने कुछ धन 9% की दर से तथा उतना ही धन 10% वार्षिक की दर से 2 वर्ष के लिए उधार दिया। उसे 760 रु० साधारण ब्याज प्राप्त हुआ। बताएँ उसने कुल कितने धन का निवेश किया ?

- (1) 4,000 रु० (2) 2,000 रु०  
(3) 1,900 रु० (4) 3,800 रु०

72. The list price of an article is Rs. 450. It is sold at two successive discounts of 10% and 5%. Find the sale price :

- (1) Rs. 395.25 (2) Rs. 384.75  
(3) Rs. 382.50 (4) Rs. 435

एक वस्तु का मूल्य 450 रु० दिखाया गया है जिसकी खरीद पर दो उत्तरोत्तर छूट 10% एवं 5% दी गई। विक्रय मूल्य बताएँ :

- (1) 395.25 रु० (2) 384.75 रु०  
(3) 382.50 रु० (4) 435 रु०

73. A candidate secures 69% of the votes polled and wins the election by 570 votes. If there are only two candidates and no vote has been cancelled, how many votes were polled ?

- (1) 1,500 (2) 1,800 (3) 5,700 (4) 6,900

एक उम्मीदवार ने पड़े मतों का 69% प्राप्त करके 570 मतों से चुनाव जीता। यदि दो ही उम्मीदवार हों और एक भी मत रद्द न हुआ हो, तो कुल गिरे मतों की संख्या कितनी रही ?

- (1) 1,500 (2) 1,800 (3) 5,700 (4) 6,900

74. In a certain code MYSTIFY is coded as NZTUJGZ, how is NEMESIS coded in that code language ?

- (1) MDLHRDR (2) OFNFTJT  
(3) PGOKUGU (4) ODNHTDT

एक कूट भाषा में MYSTIFY को NZTUJGZ के रूप में लिखा जाता है, NEMESIS कैसे लिखा जाएगा ?

- (1) MDLHRDR (2) OFNFTJT  
(3) PGOKUGU (4) ODNHTDT

75. Two cubes each of side 10 cm, are joined end to end. What is the surface area of the resulting figure ?

- (1)  $500 \text{ cm}^2$  (2)  $1,500 \text{ cm}^2$   
 (3)  $1,000 \text{ cm}^2$  (4)  $1,200 \text{ cm}^2$

दस सेमी भुजा के दो क्यूब (घन) एक ओर से परस्पर जुड़े हैं। नई आकृति का सतही क्षेत्रफल क्या है ?

- (1)  $500 \text{ सेमी}^2$  (2)  $1,500 \text{ सेमी}^2$   
 (3)  $1,000 \text{ सेमी}^2$  (4)  $1,200 \text{ सेमी}^2$

76. Select the antonym of the word 'Serviceable' from the options given below :

- (1) Unservicable (2) Inservicable  
 (3) Unserviceable (4) Nonserviceable

77. Select the correct antonym of the word 'Mysterious' from the options given below :

- (1) Straightforward (2) Puzzling  
 (3) Hidden (4) None of the above

78. Select the option with correct spelling of the word.

- (1) Deliberatly (2) Delibrately  
 (3) Deliberetely (4) Deliberately

79. Select the option which is antonym of the word 'Auspicious' :

- (1) Unauspicious (2) Non-auspicious  
 (3) Inauspicious (4) Favourable

80. Select the option with correct spelling of the word :

- (1) Acquiscence (2) Acquiescence  
 (3) Acquiesence (4) Acquisence

81. The following sentence has an error in one of its part. The number assigned to the part is the answer. Ignore errors of punctuation, if any. Mark the correct answer :

We are looking forward for good rains this year.

- (1) looking forward for                      (2) we are  
(3) good rains                                  (4) this year

82. One of the following sentences is correct, While the rest three have some error(s). Select the correct sentence :

- (1) The accused admitted his guilt in the court  
(2) The accused confessed his guilt in the court  
(3) The accused agreed to his guilt in the court  
(4) The accused accepted his guilt in the court

83. Select the correct option reflecting correct meaning of the word 'Dauntless'.

- (1) Coward                                      (2) Wavering  
(3) Fearless                                  (4) Compromising

84. Select the option which is a synonym of the word 'Nefarious'.

- (1) Virtuous                                      (2) Upright  
(3) None of the above                      (4) Evil

85. Select the option having meaning similar to the word 'clumsy'.

- (1) Ungainly                                      (2) Tactful  
(3) Attractive                                      (4) Graceful



86. Name the capital of Assam :

- (1) Guwahati (2) Dibrugarh  
(3) Dispur (4) Jorhat

असम की राजधानी का नाम बताएँ :

- (1) गुवहाटी (2) डिबरुगढ़  
(3) दिसपुर (4) जोरहाट

87. Which river(s) flow through Iraq ?

- (1) Nile (2) Tigris  
(3) Euphrates and Tigris (4) Nile and Tigris

ईराक में कौन-सी नदी(याँ) बहती हैं ?

- (1) नील (2) टिगरिस  
(3) यूफरेटस एवं टिगरिस (4) नील एवं टिगरिस

88. In which year Reserve Bank of India was created ?

- (1) 1921 (2) 1935 (3) 1947 (4) 1955

भारतीय रिज़र्व बैंक किस वर्ष में बनाया गया ?

- (1) 1921 (2) 1935 (3) 1947 (4) 1955

89. One gram of weight is equal to ..... milligram.

- (1) 10 mg (2) 100 mg  
(3) 1000 mg (4) 10,000 mg

एक ग्राम भार ..... मिलीग्राम के बराबर होता है।

- (1) 10 मिग्रा० (2) 100 मिग्रा०  
(3) 1000 मिग्रा० (4) 10,000 मिग्रा०

90. Who picked up IPL-5 cricket championship ?

- (1) Chennai Superkings (2) Mumbai Indians  
(3) Kolkata Knight Riders (4) Delhi Daredevils

आई०पी०एल०-5 क्रिकेट प्रतियोगिता किसने जीती ?

- (1) चेन्नई सुपर किंग्स (2) मुंबई इंडियन्स  
(3) कोलकाता नाइट राइडर्स (4) देहली डेयर डेविल्स

91. Which among the following is the largest (area) Union Territory ?

- (1) Puducherry (2) Lakshadweep  
(3) Andaman-Nicobar (4) Daman & Diu

निम्न में सबसे बड़ा केन्द्र शासित क्षेत्र कौन-सा है ?

- (1) पुडुचेरी (2) लक्षद्वीप  
(3) अंडमान-निकोबार (4) दमन एवं दियु

92. Which dynasty among the following did emerge the earliest to rule ?

- (1) Tughlak dynasty (2) Sayyad dynasty  
(3) Slave dynasty (4) Khalji dynasty

निम्न वंशों में सर्वप्रथम किस वंश का शासन हुआ ?

- (1) तुगलक वंश (2) सय्यद वंश  
(3) दास वंश (4) खिलजी वंश

93. How many times do we breathe at rest (in adulthood) per minute ?

- (1) 20-25 (2) 72-75 (3) 13-17 (4) 5-8

हम (वयस्क) विश्राम की अवस्था में प्रति मिनट कितनी बार सांस लेते हैं ?

- (1) 20-25 (2) 72-75 (3) 13-17 (4) 5-8

94. Name the capital of Canada :

- (1) Toronto (2) Montreal  
(3) Vancouver (4) Ottawa

कनाडा की राजधानी का नाम बताएँ :

- (1) टोरन्टो (2) मोन्ट्रियल  
(3) वेनकुवर (4) ओटवा

95. Which among the following is the smallest religious minority in India ?

- (1) Sikhs (2) Christians  
(3) Buddhists (4) Jain

भारत में सबसे छोटा अल्पसंख्यक समूह (धर्म) निम्न में कौन-सा है ?

- (1) सिक्ख (2) ईसाई  
(3) बौद्ध (4) जैन

96. Find one number from the given choices which can fill both blanks :

$$\frac{0.27}{?} = \frac{?}{0.03}$$

- (1) 9.00 (2) 0.009 (3) 0.90 (4) 0.09

दिये गये विकल्पों में से ऐसी संख्या चुनें जो दोनों रिक्त स्थानों को भर सके :

$$\frac{0.27}{?} = \frac{?}{0.03}$$

- (1) 9.00 (2) 0.009 (3) 0.90 (4) 0.09

97. Simplify the following :

$$7 + 15 \div 5 \times 4 - 6 = ?$$

- (1) 34 (2) -4.9 (3) 13 (4) 1

निम्न को सरल करें :

$$7 + 15 \div 5 \times 4 - 6 = ?$$

- (1) 34 (2) -4.9 (3) 13 (4) 1

98. Complete the series :

3, 9, 13, 4, 12, 16, 5, 15 .....

- (1) 19 (2) 20 (3) 6 (4) 45

शृंखला को पूरा करें :

3, 9, 13, 4, 12, 16, 5, 15 .....

- (1) 19 (2) 20 (3) 6 (4) 45

99. Complete the analogy :

Newspaper : Press :: Cloth : ?

- (1) Tailor (2) Fibre  
(3) Mill (4) Cotton

सादृश्य को पूरा करें

समाचारपत्र : मुद्रणालय :: कपड़ा : ?

- (1) दर्जी (2) धागा  
(3) कारखाना (4) कपास

100. Choose the analogous to

Hen : Chicken

- (1) Lion : Lioness (2) Lamb : Sheep  
(3) Butterfly : Caterpillar (4) Ostrich : Bird

सदृश चुनें

मुर्गी : चूजे

- (1) शेर : शेरनी (2) मेमना : भेड़  
(3) तितली : सूँडी (4) ऑस्ट्रिच : पक्षी